

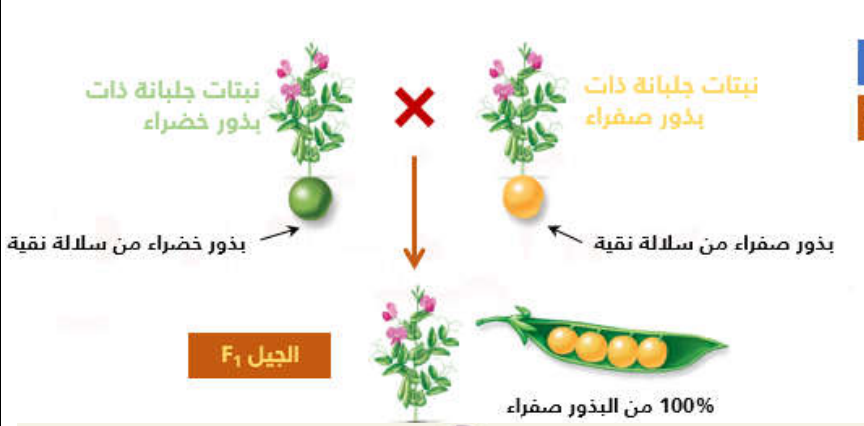
الهجونة الأحادية: حالة السيادة التامة لمورثة غير مرتبطة بالجنس

النشاط 2

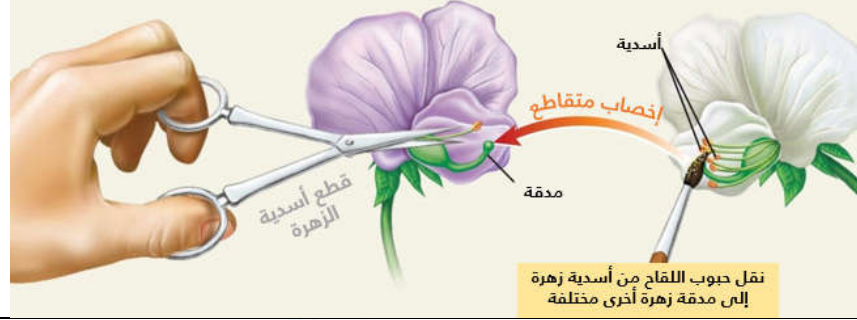
لفهم كيفية انتقال الصفات الوراثية لزوج واحد من الحيليات (الهجونة الأحادية) عند مورثة مرتبطة بصبغي لاجنسي (للذكر و الأنثى حيلان لنفس المورثة) قام العالم Mendel بإنجاز تزاوجات بين نباتات جلبانة تختلف فيما بينها بصفة واحدة.

المعطيات


الوثيقة 1 : انتقال صفة لون البذور عند الجلبانة:



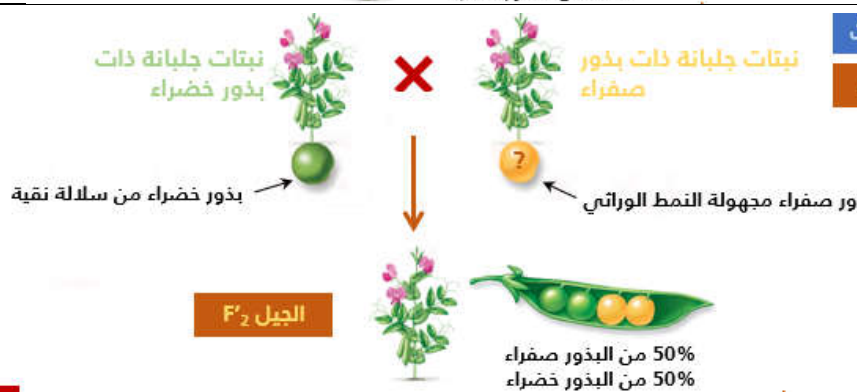
التزاوج الأول: قام Mendel بإجراء تزاوج بين نباتي جلبانة تنتميان لسلالة نقية (أبوين (P) ، إحداهما ذات بذور صفراء و الأخرى ذات بذور خضراء، فحصل Mendel على نباتات جلبانة (الجيل (F₁) كلها ذات بذور صفراء. يمكن هذا التزاوج Mendel من وضع أول قوانينه لانتقال الصفات الوراثية. تمثل الوثيقة جانبه ظروف و نتائج هذا التزاوج الأول.



ملحوظة: بما أن أزهار نبات الجلبانة تعتبر خنثى (أي أنها تضم الأعضاء التناسلية الذكرية : الأسدية، و الأعضاء التناسلية الأنثوية : المذقة)، فكان من الضروري على العالم Mendel أن يمنع الإخصاب الذاتي للأزهار. لذلك قام بهذا العالم بإنجاز إخصاب متقاطع، بنقله لحبوب لقاح نبتة إلى مذقة نبتة مختلفة، بعد إزالة أسدية هذه الأخيرة.



التزاوج الثاني: قام Mendel بزرع بذور نباتات الجلبانة المحصل عليها بعد التزاوج الأول (النباتات (F₁) ، فحصل على نباتات جلبانة تركها، لتقوم بإخصاب ذاتي، حتى يكون التزاوج بين أفراد F₁ فيما بينهم، فحصل على نباتات جلبانة F₂ ، تتوفر على 75% من البذور الصفراء و 25% من البذور الخضراء. من خلال هذا التزاوج، وضع Mendel القانون الثاني لانتقال الصفات الوراثية. تمثل الوثيقة جانبه ظروف و نتائج هذا التزاوج الثاني.



التزاوج الثالث: أخذ Mendel بنورا صفراء من الجيل F₂ ، لم يكن على علم بنمطها الوراثي، فقام بإجراء تزاوج بينها و بين نبات جلبانة ذات بذور خضراء، فحصل على جيل F₂' نصف بذوره صفراء و النصف الآخر خضراء. تمثل الوثيقة جانبه ظروف و نتائج هذا التزاوج الثالث.

ملحوظة: تشير إلى أن مختلف النتائج المحصل عليها خلال التزاوجات السابقة لنباتات الجلبانة، لا تدل على أن مورثة لون البذور محمولة على صبغي جنسي (أنظر لاحقا حالة مورثة محمولة على صبغي جنسي)، سنعتبر إذن على أن هذه المورثة محمولة على صبغي لاجنسي

الوثيقة 2 : تمرين تطبيقي: انتقال صفة لون الفرو عند الفئران

تم إنجاز تزاوج بين فأرين من سلالتين نقيتين بالنسبة لصفة لون الفرو . الفأر الذكر لون الفرو رمادي والأنثى فروها أبيض. أعطى هذا التزاوج خلفا F₁ يكون من فئران كلها ذات فرو رمادي.

بعد ذلك ننجز تزاوجا بين فنران الجيل الأول فحصل على خلف يشكل الجيل الثاني F2 يتكون من فنران 25% منها لون فروها أبيض و 75% منها لون فروها رمادي.

- 1- فسر سبب غياب اللون الأبيض عند أفراد الجيل الأول. ثم اعط التفسير الصبغي لنتائج هذين التزاوجين.
- 2- استنتج النمط الوراثي لفأر رمادي من فنران F2 أعطى تزاوجه مع فأرة بيضاء خلفا كله ذو فرو رمادي.
- 3- استنتج النمط الوراثي لفأر رمادي من فنران F2 أعطى تزاوجه مع فأرة بيضاء خلفا يتكون من فنران 50% منها ذات فرو رمادي و 50% منها ذات فرو أبيض.

استثمار المعطيات

- I- باستثمارك معطيات الوثيقة 1
- 1- حلل نتائج التزاوج الأول ثم استنتج.
- 2- حدد المظاهر الخارجية والأنماط الوراثية للأبوين وأفراد الجيل F1 باستعمال الرموز الملائمة.
- 3- حلل نتائج التزاوج الثاني ثم استنتج.
- 4- انجز التفسير الصبغي للتزاوجين الأول والثاني ثم استنتج.
- 5- بين لماذا لم يتمكن ماندل من تحديد النمط الوراثي للبذور الصفراء للجيل F2 قبل إجراء التزاوج الثالث.
- 6- أنجز تفسيرا صبغيا تفسر به نتائج التزاوج الثالث، ثم بين الهدف من هذا النوع من التزاوجات.
- II- أنجز التمرين التطبيقي (وثيقة 2).